

Code TP SYMPACT	D - Expérimenter sur un système	Série 1 A3
----------------------------	--	-----------------------

Problématique	Comment mesurer les grandeurs physiques sur un système pluri-technologique ?
----------------------	---

Systeme 	<p>La barrière SYMPACT est un dispositif de contrôle d'accès qui possède des configurations lui permettant de s'adapter à différents contextes d'utilisation : parkings payants, parcs privés, campings ou utilisation autoroutière (péages et télé péages).</p> <p>La montée et la descente de la barrière sont pilotées par un moteur asynchrone triphasé, par l'intermédiaire d'un réducteur de vitesse et d'un système de transformation de mouvement. Un variateur de vitesse fournit la loi de commande du moteur pour permettre le pilotage de la position.</p>
------------------------	--

Compétences	<table border="1" style="width: 100%; border-collapse: collapse;"> <tr> <td style="width: 10%; text-align: center;">D1</td> <td>Découvrir le fonctionnement d'un système pluri-technologique et le mettre en œuvre</td> </tr> <tr> <td style="text-align: center;">D1-01</td> <td>Mettre en œuvre un système en suivant un protocole dans le respect des règles de sécurité.</td> </tr> <tr> <td style="text-align: center;">D1-02</td> <td>Identifier les constituants réalisant les principales fonctions des chaînes d'information et de puissance.</td> </tr> <tr> <td style="text-align: center;">D1-03</td> <td>Identifier les principales grandeurs physiques d'effort et de flux.</td> </tr> <tr> <td style="text-align: center;">D2</td> <td>Proposer et justifier un protocole expérimental</td> </tr> <tr> <td style="text-align: center;">D2-01</td> <td>Proposer un protocole en fonction de l'objectif visé.</td> </tr> <tr> <td style="text-align: center;">D2-02</td> <td>Configurer et régler le système en fonction de l'objectif visé.</td> </tr> <tr> <td style="text-align: center;">D2-03</td> <td>Choisir la grandeur physique à mesurer ou justifier son choix.</td> </tr> <tr> <td style="text-align: center;">D2-04</td> <td>Justifier le choix d'un appareil de mesure ou d'un capteur vis-à-vis de la grandeur physique à mesurer.</td> </tr> <tr> <td style="text-align: center;">D2-05</td> <td>Choisir les grandeurs d'entrées à imposer et les grandeurs de sorties à acquérir pour identifier un modèle de comportement sur un système ou sur un constituant du système.</td> </tr> <tr> <td style="text-align: center;">D3</td> <td>Mettre en œuvre un protocole expérimental</td> </tr> <tr> <td style="text-align: center;">D3-01</td> <td>Mettre en œuvre un appareil de mesure adapté à la caractéristique de la grandeur à mesurer.</td> </tr> <tr> <td style="text-align: center;">D3-02</td> <td>Identifier les erreurs de mesure et de méthode.</td> </tr> </table>	D1	Découvrir le fonctionnement d'un système pluri-technologique et le mettre en œuvre	D1-01	Mettre en œuvre un système en suivant un protocole dans le respect des règles de sécurité.	D1-02	Identifier les constituants réalisant les principales fonctions des chaînes d'information et de puissance.	D1-03	Identifier les principales grandeurs physiques d'effort et de flux.	D2	Proposer et justifier un protocole expérimental	D2-01	Proposer un protocole en fonction de l'objectif visé.	D2-02	Configurer et régler le système en fonction de l'objectif visé.	D2-03	Choisir la grandeur physique à mesurer ou justifier son choix.	D2-04	Justifier le choix d'un appareil de mesure ou d'un capteur vis-à-vis de la grandeur physique à mesurer.	D2-05	Choisir les grandeurs d'entrées à imposer et les grandeurs de sorties à acquérir pour identifier un modèle de comportement sur un système ou sur un constituant du système.	D3	Mettre en œuvre un protocole expérimental	D3-01	Mettre en œuvre un appareil de mesure adapté à la caractéristique de la grandeur à mesurer.	D3-02	Identifier les erreurs de mesure et de méthode.
D1	Découvrir le fonctionnement d'un système pluri-technologique et le mettre en œuvre																										
D1-01	Mettre en œuvre un système en suivant un protocole dans le respect des règles de sécurité.																										
D1-02	Identifier les constituants réalisant les principales fonctions des chaînes d'information et de puissance.																										
D1-03	Identifier les principales grandeurs physiques d'effort et de flux.																										
D2	Proposer et justifier un protocole expérimental																										
D2-01	Proposer un protocole en fonction de l'objectif visé.																										
D2-02	Configurer et régler le système en fonction de l'objectif visé.																										
D2-03	Choisir la grandeur physique à mesurer ou justifier son choix.																										
D2-04	Justifier le choix d'un appareil de mesure ou d'un capteur vis-à-vis de la grandeur physique à mesurer.																										
D2-05	Choisir les grandeurs d'entrées à imposer et les grandeurs de sorties à acquérir pour identifier un modèle de comportement sur un système ou sur un constituant du système.																										
D3	Mettre en œuvre un protocole expérimental																										
D3-01	Mettre en œuvre un appareil de mesure adapté à la caractéristique de la grandeur à mesurer.																										
D3-02	Identifier les erreurs de mesure et de méthode.																										

Chef de projet

Activité 1(2h)	Vous prenez en charge l'analyse fonctionnelle et structurelle du système
-----------------------	---

Activité 2(2h)	Vous êtes chargé de caractériser le capteur implanté sur le système
-----------------------	--

Activité 3(2h)	Vous êtes chargé de caractériser les grandeurs électriques d'alimentation du système
-----------------------	---

Activité commune de synthèse (40' + 5')	Le chef de projet synthétise les études et présente oralement les résultats des activités pratiques
--	--

Ressources	<p>Documents sur les activités pratiques (fiches outils, DR, modèles...)</p> <p style="text-align: center;">Documents sur les systèmes du laboratoire (doc techniques, procédures, Sysml...)</p>	<p>fltsi.fr rubrique tp série 1</p> <p>fltsi.fr rubrique systèmes</p>
-------------------	--	---

Activité 3 (2h)

Responsabilité : Vous êtes chargé de simuler la puissance active consommée par le système et de valider par une mesure.

Documents

Procédure
Doc. Réponse
fiches outils

Mise en service

A3_DR1
harmoniques.jpeg ; C15-100_THD.jpeg ; Câblage_UNIGOR.pdf

Questions

Mesure de la tension réseau

Q1 Rappeler la définition de la valeur efficace d'un signal $X(t)$, et la valeur attendue du coefficient entre valeur efficace (notée U) et amplitude (notée U_{max}) d'un signal sinusoïdal $u(t) = U_{max} \cdot \sin(\omega \cdot t)$.

Mettre en place la mesure de la tension réseau avec un oscilloscope, et préparer l'affichage de la valeur efficace (RMS -root mean square-). (Utiliser les boîtiers 2P+T de mesure système). **Faire vérifier le montage par un professeur avant la mise sous tension.**

Q2 Relever l'amplitude, la valeur efficace et la fréquence du réseau et calculer le coefficient entre la valeur efficace et l'amplitude du signal réseau de la salle A010. Imprimer, commenter vos relevés et la valeur du coefficient.

Q3 Sur le relevé, on observe une déformation du signal sinusoïdal pour les angles de $\pi/2$ et $3\pi/2$. Proposer une explication.

La décomposition de Fourier permet d'identifier le rang harmonique qui provoque cette déformation (consulter la fiche outil **Harmoniques.jpeg**).

Q4 Utiliser les fonctions mathématiques de l'oscilloscope -SCOPE WAVEFORM MATHEMATICS SPECTRUM- pour relever le spectre de la tension réseau (préciser Valeur RMS et fréquence des rangs -utiliser les curseurs- et les reporter sur un graphe valeur RMS en ordonné, et rang harmonique en abscisse).

Q5 Calculer le taux de distorsion harmonique du signal tension (THD) et vérifier si la norme est respectée (consulter l'annexe **C15-100 THD.jpeg**).

Mesure du courant appelé par le système (on se placera dans une situation où le système est chargé).

Q6 Mettre en place la sonde de courant et afficher le courant sur l'oscilloscope (attention au sens conventionnel du courant, on attend sur le système un déphasage du courant compris entre 0 et $\pi/2$ entre la tension réseau et le fondamental du courant).

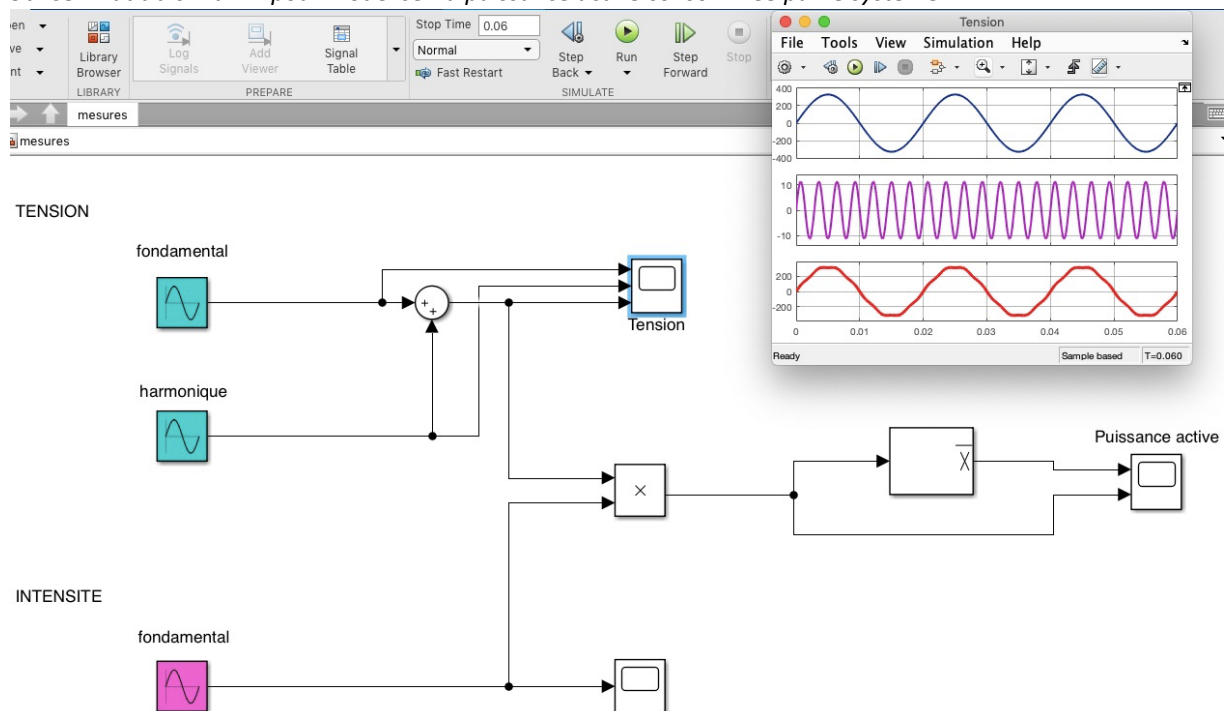
Q7 Relever l'amplitude, la valeur efficace et la fréquence du signal. Tracer à la main l'allure du fondamental sur une impression de l'écran d'oscilloscope. Mesurer le spectre du courant et le tracer.

Si le spectre du courant présente un rang 7 nul ou négligeable, le seul rang harmonique du courant qui peut donner lieu à un transfert de puissance active est le rang 1 (le fondamental). Vérifier cette hypothèse.

Q8 tracer le diagramme de Fresnel des fondamentaux des vecteurs tension et intensité du courant en fixant des échelles et en déduire la puissance active absorbée par le système.

Simulation de la puissance active

Utiliser matlab-simulink pour modéliser la puissance active consommée par le système.



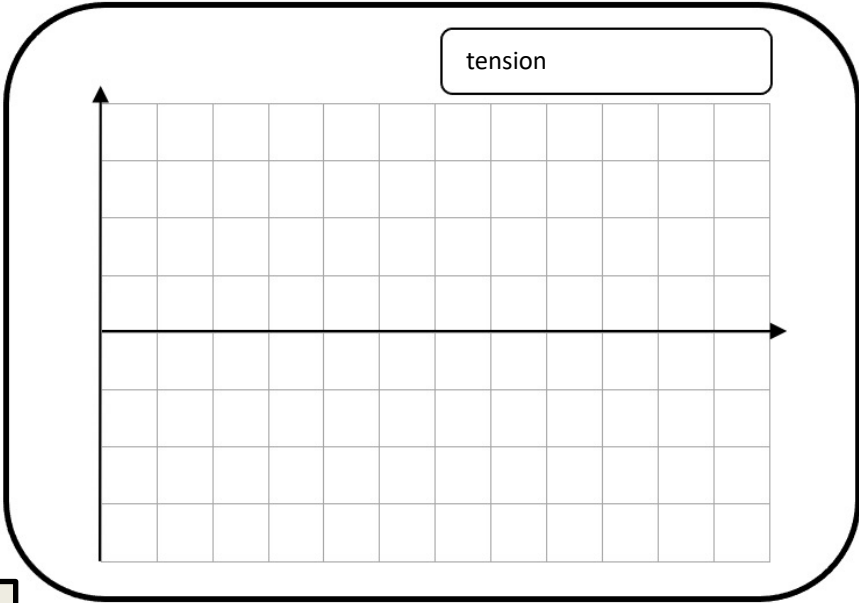
Q9 Imprimer et commenter les allures de la tension réseau et de la puissance instantannée. Relever la valeur de la puissance active. Conclure sur la modélisation.

Validation par une mesure de puissance

Mettre en place le wattmètre UNIGOR en utilisation la fiche outil **câblage_UNIGOR.pdf**

Q10 rappeler la définition du facteur de puissance.

Q11 Mesurer la puissance active absorbée par le système et le facteur de puissance. Conclure sur l'activité A3 en complétant le document réponse A3_DR1 et la page 3 du dossier TP (mesure des écarts).




$U_{max} =$
 $U_{eff} =$
 $I_{max} =$
 $I_{eff} =$
 $P =$
 $Fp =$

Réseau
monophasé
230 V 50 Hz



Système



Tracé de Fresnel